

The background of the slide is a collage of Euro currency. It features several banknotes, including a 50 Euro note in the upper left, a 100 Euro note in the lower left, and a 20 Euro note in the upper right. Scattered throughout are various Euro coins, including 1 Euro, 2 Euro, and 5 Euro coins. The entire image has a light blue, semi-transparent overlay.

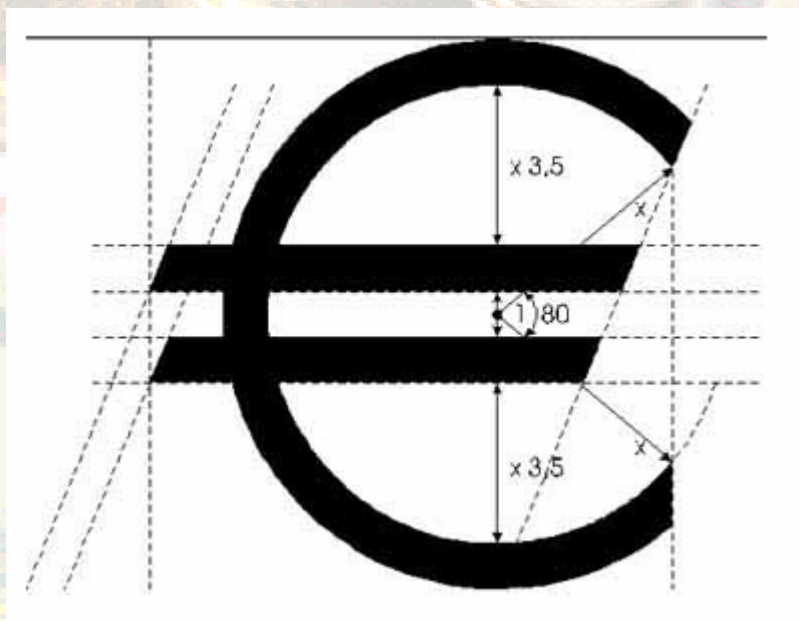
Weetjesquiz over geld

Grote Rekendag Dag
2009



Vraag 1

In welk jaar is de euro
ingevoerd?



Vraag 2

Wat is een rijksdaalder?



Vraag 3

Welk biljet is in Nederland het meeste in omloop?



Vraag 4

Wat zijn de afmetingen (lengte en breedte) en de kleur van een briefje van 5 euro?

Vraag 5

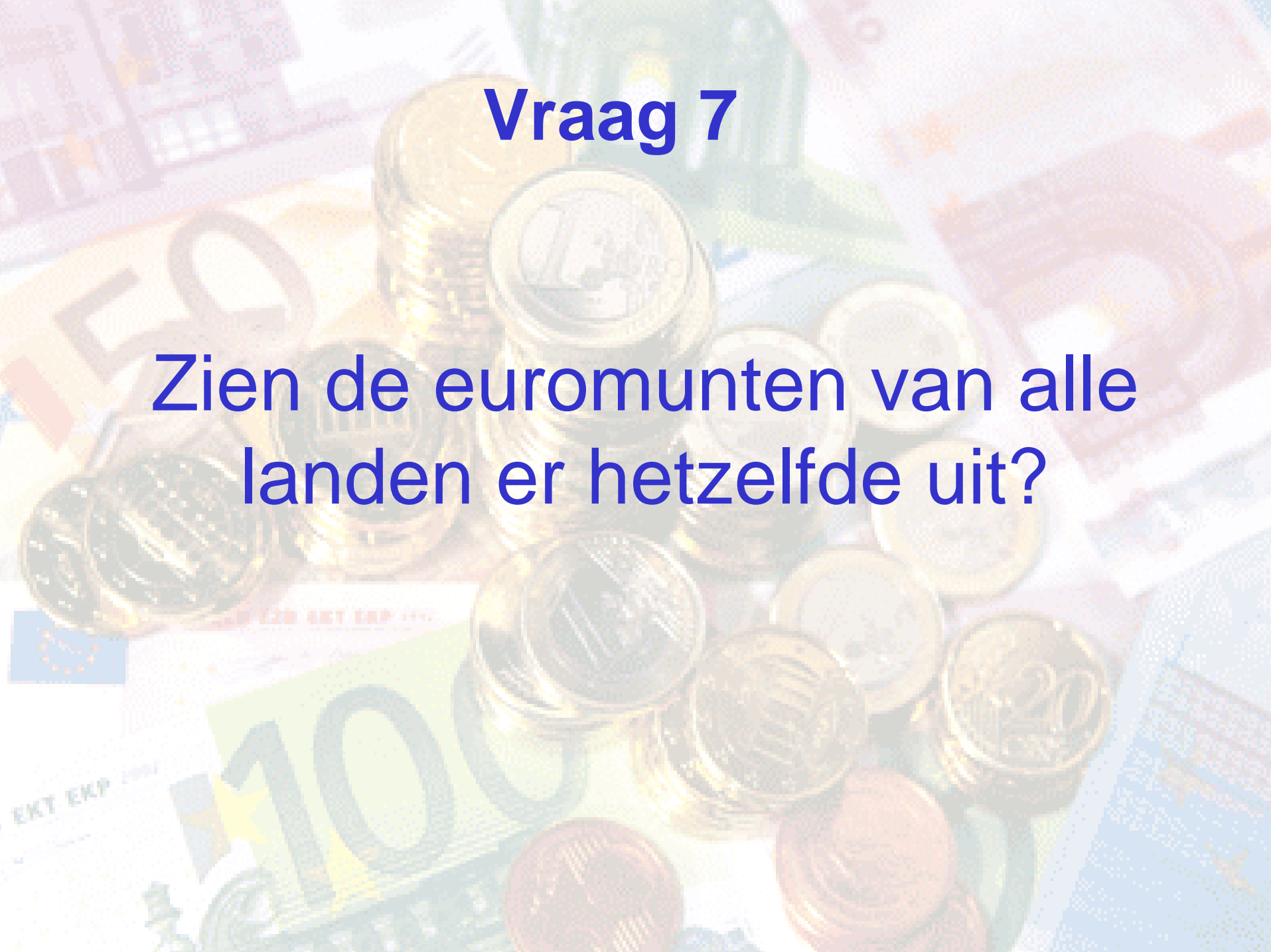
Hoe kun je zien uit welk land
een eurobiljet komt?

Vraag 6

Ongeveer hoeveel bankbiljetten circuleerden er eind december 2007 in totaal?

Vraag 7

Zien de euromunten van alle landen er hetzelfde uit?



Vraag 8

Hoe zwaar is een twee euromunt?




Vraag 9

Ongeveer welk deel van de munten in een Nederlandse portemonnee komt uit Nederland?

Vraag 10

Hoe betaal je met zo weinig mogelijk munten en/of bankbiljetten €8,20?

The background of the slide features a collage of Euro currency. In the center, there are several stacks of gold-colored Euro coins, with one coin prominently showing the number '1'. Surrounding these are various Euro banknotes, including a 100 Euro note in green and yellow, and a 20 Euro note in blue. The overall image has a soft, semi-transparent overlay.

Weetjesquiz vragen en antwoorden

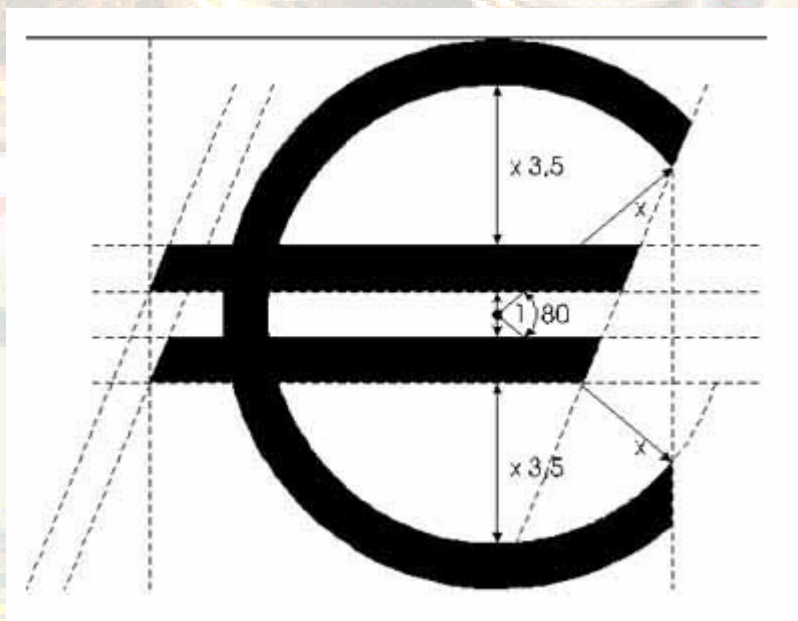
Grote Rekendag Dag
2009



Vraag 1

In welk jaar is de euro
ingevoerd?

Antwoord: 2002.



Vraag 2

Wat is een rijksdaalder?

Antwoord: een oude Nederlandse munt met een waarde van 2 gulden en 50 cent.

Vraag 3

Welk biljet is in Nederland het meeste in omloop?

Antwoord: Het briefje van 50 euro.

Vraag 4

Wat zijn de afmetingen (lengte en breedte) en de kleur van een briefje van 5 euro?

Antwoord: 120 x 60 mm, grijs.

Vraag 5

Hoe kun je zien uit welk land een eurobiljet komt?

Antwoord: Aan de letter bij het serienummer.

Vraag 6

Ongeveer hoeveel bankbiljetten circuleerden er eind december 2007 in totaal?

Antwoord: 12,1 miljard bankbiljetten.

Vraag 7

Zien de euromunten van alle landen er hetzelfde uit?

Antwoord: De muntzijde wel, maar de beeldzijde niet.

Vraag 8

Hoe zwaar is een twee euromunt?

Antwoord: 8,50 gram.

Vraag 9

Ongeveer welk deel van de munten in een Nederlandse portemonnee komt uit Nederland?

Antwoord: ongeveer $\frac{1}{3}$ deel.

Vraag 10

Hoe betaal je met zo weinig mogelijk munten en/of bankbiljetten €8,20?

Antwoord:

1x 5 euro

1 x 2 euro

1 x 1 euro

1 x 2 cent

Maar als je het teruggeven meetelt, kun je ook 1 briefje van 10 en een muntje van 20 cent geven, je krijgt dan 1 twee euromunt terug, dit is samen 3 dingen, dus minder.